



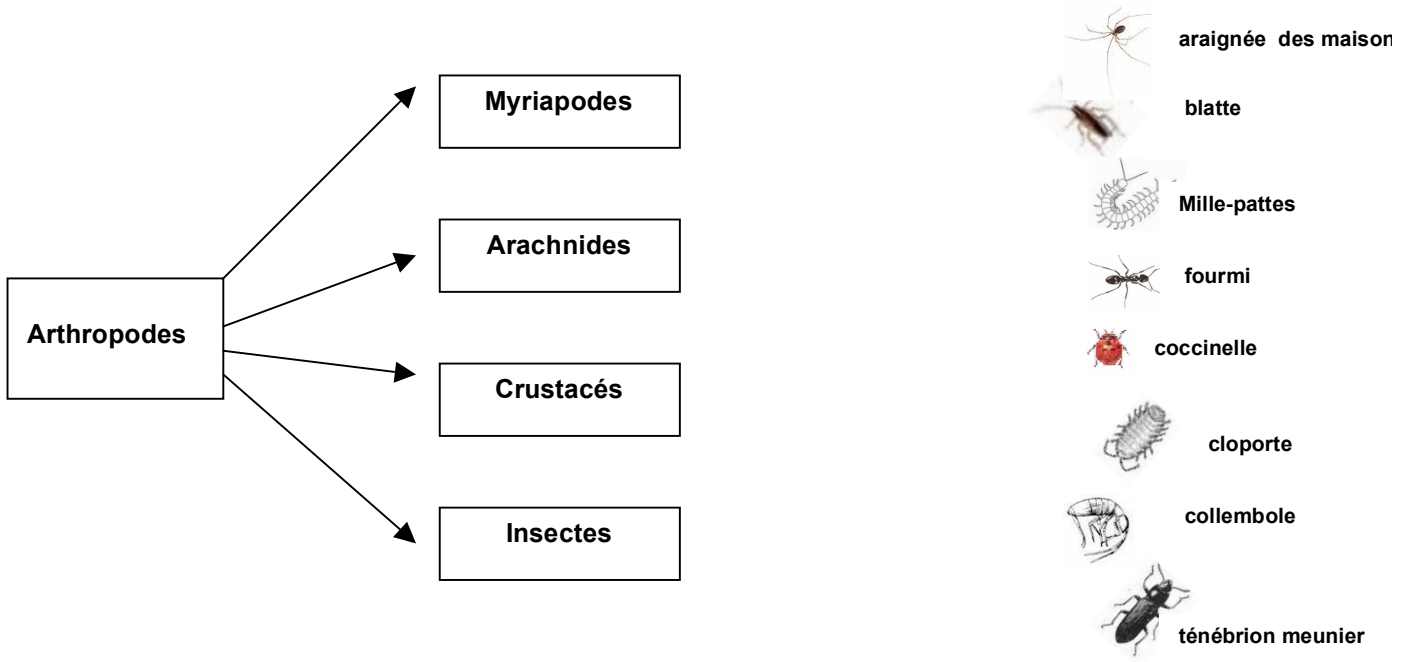
Nom : \_\_\_\_\_

Prénom : \_\_\_\_\_

# Les Arthropodes

## 1. Classification

Nombre d'antennes	Nombre de pattes	Classe
2 paires	5 paires	
1 paire	3 paires	
aucune	4 paires	
1 paire	beaucoup	

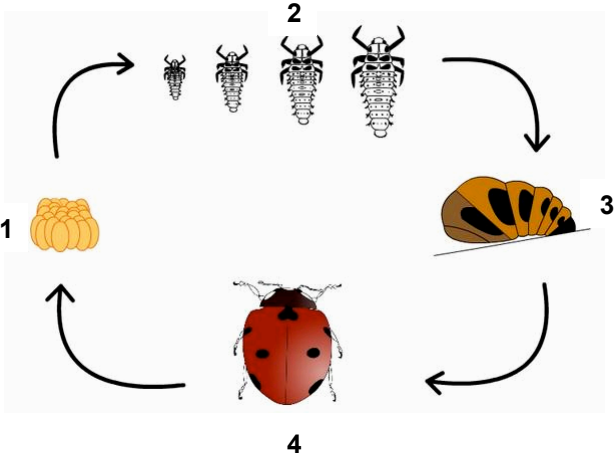


## 2. Que mangent-ils et où habitent-ils ?

	Où habitent- ils ?	Que mangent-ils ?
blattes		
coccinelles		
araignées		
cloportes		
fourmis		
ténébions		

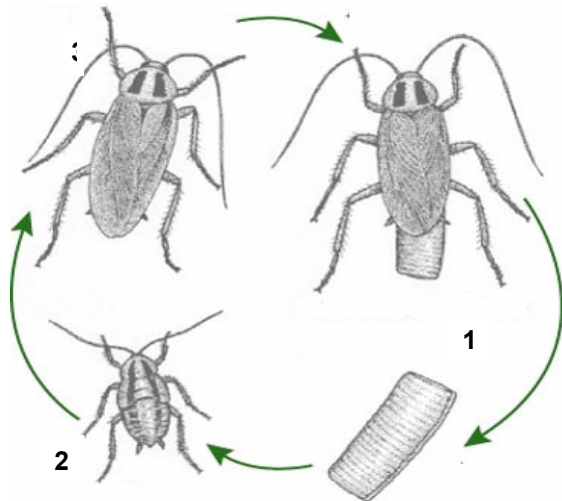
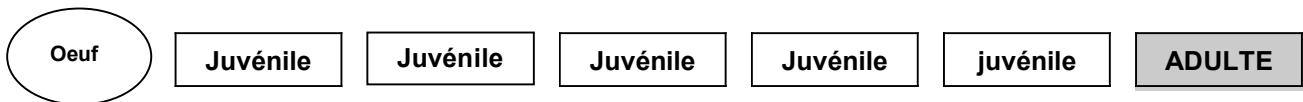
### 3. Comment grandissent-ils ?

#### HOLOMETABOLES



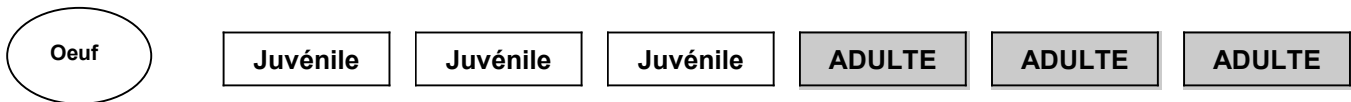
1 = \_\_\_\_\_  
 2 = \_\_\_\_\_  
 3 = \_\_\_\_\_  
 4 = \_\_\_\_\_

#### HEMIMETABOLES



1 = \_\_\_\_\_  
 2 = \_\_\_\_\_  
 3 = \_\_\_\_\_

#### AMETABOLES




#### 4. Les acariens

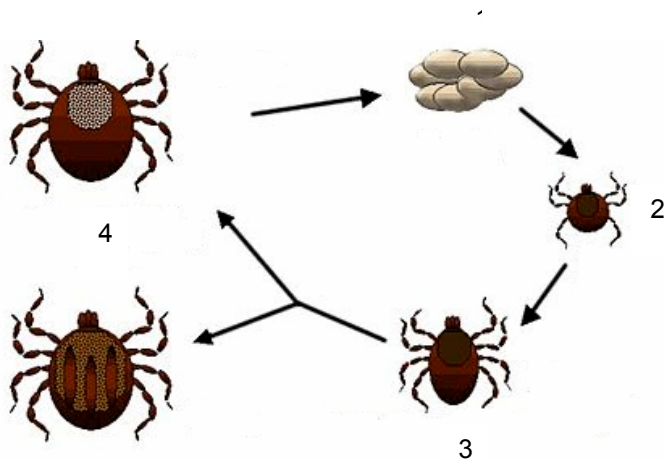
##### Observation des acariens au binoculaire

Serais-tu un bon acarologue ? Teste tes capacités d'observation et réponds au questionnaire pour le savoir ...

- Combien de pattes ont les acariens adultes ? .... pattes
- Les acariens ont-ils des antennes ? oui - non
- Les acariens ont-ils des ailes ? oui - non
- Tous les animaux de la préparation ont-ils le même nombre de pattes ? oui - non
- Trouve un œuf sur la préparation (appelle l'animatrice pour vérifier)
- Trouve une larve sur la préparation (appelle l'animatrice pour vérifier)
- Dessine un acarien



- Cycle de l'acarien (la tique)



1 =	_____
2 =	_____
3 =	_____
4 =	_____